

MUNICÍPIO DE JOINVILLE - SC**0069 - GEÓGRAFO**

Turno: TARDE

Tipo de Prova
4

Sr. Candidato, para ter a sua prova corrigida é obrigatório a marcação do tipo de prova no cartão de respostas. Caso não marque o tipo de prova, o cartão de respostas não será lido, e estará automaticamente eliminado do Concurso Público.

TRANSCREVA, NO SEU CARTÃO DE RESPOSTAS, A FRASE ABAIXO PARA O EXAME GRAFOTÉCNICO:

“Tudo é considerado impossível, até acontecer.” Nelson Mandela

ATENÇÃO

Este caderno contém cinquenta questões de múltipla escolha, cada uma com cinco alternativas de resposta (A, B, C, D, E).

Verifique se este material está em ordem, caso contrário, notifique imediatamente o fiscal.

O tempo de duração da prova inclui o preenchimento do Cartão de Respostas e da Folha de Respostas.

Duração da prova: 4h

LEIA AS INSTRUÇÕES ABAIXO

Por motivo de segurança:

- O candidato só poderá retirar-se definitivamente da sala após 1 (uma) hora do início efetivo da prova.
- O candidato poderá retirar-se levando o seu caderno de questões, somente faltando 1 (uma) hora para o término da prova.
- O candidato que optar por se retirar sem levar o seu caderno de questões não poderá copiar suas respostas por qualquer meio.
- Ao terminar a prova, o candidato deverá se retirar imediatamente do local, não sendo possível nem mesmo a utilização dos banheiros e/ou bebedouros.
- Ao terminar a prova é de sua responsabilidade entregar ao fiscal o cartão de respostas assinado. Não se esqueça dos seus pertences.
- Os três últimos candidatos deverão permanecer na sala até que o último candidato entregue o cartão de respostas, devendo assinar o Termo de Sala.
- O fiscal de sala não está autorizado a alterar quaisquer dessas instruções. Em caso de dúvida, solicite a presença do coordenador local.

BOA PROVA!

LÍNGUA PORTUGUESA

TEXTO PARA AS QUESTÕES DE 01 A 05.

A era do Homo Trecos

A Revolução Treconológica nos encheu de coisas, sem antes nos perguntar se seriam úteis

Renato de Faria | 10/03/2024

Um cérebro bem desenvolvido, capacidade de falar e produzir cultura, esses são os traços mais marcantes do *Homo sapiens*. Vencemos uma batalha natural e aqui estamos, com pensamento e reflexão. Para alguns, a libertação de um estado de natureza, no qual somos frágeis, presas fáceis. Para outros, um castigo divino, uma falha natural, pois bom mesmo seria viver por aí, pescando e caçando, sem eira nem beira, tal qual os animais.

Toda cultura se acha, invariavelmente, mais capacitada e evoluída do que a anterior. Isso é normal, faz parte da arrogância de viver o presente. Porém, toda comunidade histórica, por mais adaptada e avançada que pareça ser, terá sempre seu ponto cego, aquela característica marcante e ignorante, bem debaixo do nariz, que a envergonhará diante das demais.

Por mais que os gregos sejam fascinantes, pois nos deram a filosofia, a música, a matemática, a democracia e tantas outras coisas, eles eram escravocratas. Não percebiam, a tempo, que a escravidão é um mal ético e objetivo. Eles não enxergavam. Afinal, se é ponto cego, de fato, não era para ser visto mesmo. E aqueles que se levantaram em contrariedade, foram vistos como loucos, pessimistas, que intencionavam arruinar a ordem social. Depois, foram chamados de gênios.

Daqui a quatrocentos, quinhentos anos, encontrarão nossa fragilidade, nosso ponto cego, nossa poeira jogada para debaixo do tapete. Imagino um congresso de antropólogos, filósofos e cientistas discutindo nossa civilização, com seus avanços e retrocessos, descobertas e encobertas, luzes e sombras. Encontrarão nosso calcanhar de Aquiles, pois entraremos para a história como a era dos Homo Trecos.

A Revolução Treconológica nos encheu de coisas, sem antes nos perguntar se seriam úteis. É treco no braço, na cintura, no bolso, na orelha, na maleta e em qualquer lugar que dê para pendurar alguma coisa. Diferentemente daqueles que vieram antes de nós, nossas invenções não foram criadas por uma necessidade social. Pelo contrário, a demanda é, unicamente, pela ansiedade em produzir mais coisas, mais trecos.

Depois, começamos a nos perguntar para que eles servem. Quando descobrimos que nos fazem mal, causando dependências diversas, devido ao seu uso recreativo e excessivo, a própria indústria irá oferecer outros trecos farmacológicos para baixar a ansiedade, curar a tristeza e afastar a depressão. Calma, eles dão jeito para tudo. É treco que não acaba mais.

Nós, os Homo Trecos, não gostamos muito de pensar, essa coisa antiquada, analógica e sofrida. Basta inventar uns quatro ou cinco termos em língua inglesa (a língua oficial dos criados treconológicos) para suprir a falta de vocabulário que seus representantes desenvolveram. Por uma saudade do cordão umbilical, também criaram carregadores, bluetooth, cabos e redes, para estarmos sempre conectados ao Treco-Mãe.

Ótimo! Seremos a nova espécie! Trecos humanos que irão vagar por aí, correndo de um lugar a outro, fazendo quatro reuniões na mesma hora, com um tempo presente carente de sentido, em namoro eterno com a morte. Viveremos na monotonia daqueles que não sabem o que fazer com a vida, reduzida à obsolescência daqueles que só sabem se relacionar com o fetiche em consumir mais trecos.

FARIA, Renato de. A era do Homo Trecos. *Estado de Minas*, 10 de março de 2024. Disponível em: <https://www.em.com.br/colunistas/filosofia-explicadinha/2024/03/6816267-a-era-do-homo-trecos.html>. Acesso em: 30 mar. 2024. Adaptado.

Questão 1

Qual é a função das vírgulas no trecho “É treco no braço, na cintura, no bolso, na orelha, na maleta e em qualquer lugar que dê para pendurar alguma coisa.” (5º parágrafo)?

- (A) Enumerar termos de mesma função sintática.
- (B) Isolar um apostro explicativo.
- (C) Separar vocativos.
- (D) Isolar apostos enumerativos.
- (E) Separar orações coordenadas assindéticas.

Questão 2

Em qual dos trechos abaixo se pode identificar o uso da voz verbal passiva analítica?

- (A) “Vencemos uma batalha natural e aqui estamos, com pensamento e reflexão.” (1º parágrafo).
- (B) “Toda cultura se acha, invariavelmente, mais capacitada e evoluída do que a anterior.” (2º parágrafo).
- (C) “Afinal, se é ponto cego, de fato, não era para ser visto mesmo.” (3º parágrafo).
- (D) “A Revolução Treconológica nos encheu de coisas, sem antes nos perguntar se seriam úteis.” (5º parágrafo).
- (E) “Nós, os Homo Trecos, não gostamos muito de pensar, essa coisa antiquada, analógica e sofrida.” (7º parágrafo).

Questão 3

Qual dos trechos grifados abaixo representa uma oração subordinada substantiva?

- (A) “Para alguns, a libertação de um estado de natureza, **no qual somos frágeis, presas fáceis.**” (1º parágrafo).
- (B) “Não percebiam, a tempo, **que a escravidão é um mal ético e objetivo.**” (3º parágrafo).
- (C) “Diferentemente daqueles **que vieram antes de nós,** nossas invenções não foram criadas por uma necessidade social.” (5º parágrafo).
- (D) “Depois, começamos a nos perguntar **para que eles servem.**” (6º parágrafo).
- (E) “É treco **que não acaba mais.**” (6º parágrafo).

Questão 4

De acordo com o articulista, o ser humano produz trechos:

- (A) unicamente para escancarar os pontos cegos vexaminosos das culturas anteriores;
- (B) exclusivamente para suprir necessidades sociais que culturas de outras épocas deixaram;
- (C) apenas para que as futuras gerações de filósofos estudem o ser humano atual como uma espécie diferente;
- (D) somente para saciar a ansiedade de produzir coisas, ainda que sem utilidade aparente;
- (E) unicamente para utilizar a língua inglesa, considerada de prestígio, em situações cotidianas.

Questão 5

Qual das expressões abaixo, empregadas no texto, apresenta um sentido denotativo no contexto em que se encontra?

- (A) “estado de natureza”.
- (B) “sem eira nem beira”.
- (C) “debaixo do nariz”.
- (D) “ponto cego”.
- (E) “calcanhar de Aquiles”.

MATEMÁTICA**Questão 6**

Qual é o número de diagonais de um polígono regular cuja medida do ângulo externo é de 60° ?

- (A) 6
- (B) 12
- (C) 9
- (D) 18
- (E) 5

Questão 7

Se os números x , 12, 4 e 3, formam nessa ordem uma proporção, é verdadeiro que a soma dos algarismos de x , é:

- (A) 6
- (B) 7
- (C) 8
- (D) 9
- (E) 10

Questão 8

Um quadrado tem dois dos seus vértices localizados em $A(4, 4)$ e $C(-4, -4)$, que são os extremos de uma de suas diagonais. Qual é a soma da área e do perímetro desse quadrado, considerando que todas as dimensões estão na mesma unidade de medida?

- (A) 8
- (B) 64
- (C) 48
- (D) 32
- (E) 96

Questão 9

Qual é o dobro do valor de x , sabendo que a medida dos ângulos internos de um triângulo retângulo são $x + 10$ e $x - 15$?

- (A) 47,5
- (B) 23,75
- (C) 95
- (D) 190
- (E) 185

Questão 10

Qual é o próximo número da sequência lógica 4d, 9i, 8h, 15o,...?

- (A) 6f
- (B) 12l
- (C) 20t
- (D) 25y
- (E) 18r

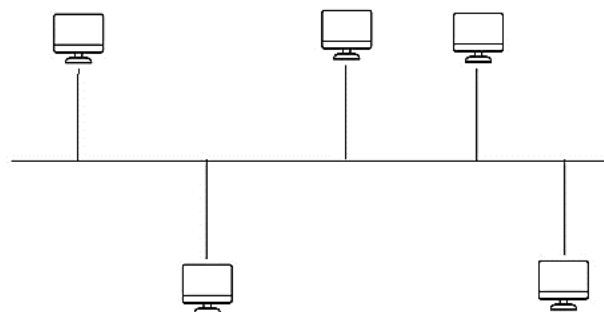
NOÇÕES DE INFORMÁTICA**Questão 11**

Assinale a alternativa que corresponda a guia em que se localiza o grupo Auditoria de Formulas, do MS-Excel 2016.

- (A) Fórmulas.
- (B) Arquivo.
- (C) Página Inicial.
- (D) Exibir.
- (E) Ajuda.

Questão 12

A imagem abaixo representa um dos tipos de topologia de rede. Qual?



- (A) Anel.
- (B) Estrela.
- (C) Barramento.
- (D) Hierárquico.
- (E) Malha.

Questão 13

Das alternativas apresentadas, qual corresponde a um exemplo de navegador de internet?

- (A) Adobe Photoshop.
- (B) Safari.
- (C) Outlook.
- (D) MSN Messenger.
- (E) Hotmail.

Questão 14

Analise as alternativas e assinale a que apresenta o atalho do MS-Word 2016 responsável por abrir a caixa “Localizar e Substituir”.

- (A) Ctrl + U.
- (B) Shift + Tab.
- (C) Alt + F3.
- (D) Tab.
- (E) F10.

Questão 15

Leia o trecho e responda.


“Interligam computadores presentes dentro de um mesmo espaço físico. Isso pode acontecer dentro de uma empresa, de uma escola ou dentro da sua própria casa, sendo possível a troca de informações e recursos entre os dispositivos participantes.”

É correto afirmar que o trecho diz respeito a:

- (A) MAN;
- (B) PAN;
- (C) SAN;
- (D) LAN;
- (E) WAN.

Questão 16

Analise a imagem e responda.



Em qual guia do MS-Word 2016 é possível localizar os grupos representados acima?

- (A) Página Inicial.
- (B) Exibir.
- (C) Design.
- (D) Inserir.
- (E) Layout.

Questão 17

Como é chamado o software instalado no computador sem a ciência do usuário, que se esconde no dispositivo e monitora atividades, roubando informações sensíveis como dados financeiros, informações de conta, logins?

- (A) Cavalo de Troia.
- (B) Spyware.
- (C) Adware.
- (D) Scareware.
- (E) Malware sem arquivo.

Questão 18

Analise e responda.

- I- Nobreak;
- II- Biometria.
- III- Certificado Digital;
- IV- Assinatura Digital;
- V- Criptografia.

Das opções apresentadas acima, qual(is) corresponde(m) a exemplo(s) de ferramenta(s) que garante(m) o Princípio da Disponibilidade da Segurança da Informação?

- (A) II e V, apenas.
- (B) III, apenas.
- (C) II e IV, apenas.
- (D) I, apenas.
- (E) V, apenas.

Questão 19

Analise a função do MS-Excel 2016 apresentada abaixo e responda.

“Função NÃO.”

É correto afirmar que a função é responsável por:

- (A) retornar VERDADEIRO se um dos argumentos for VERDADEIRO.
- (B) atribuir nomes aos resultados de cálculo.
- (C) inverter o valor lógico do argumento.
- (D) criar funções personalizadas e reutilizáveis e chamá-las por um nome amigável
- (E) especificar um teste lógico a ser executado.

Questão 20

Qual função é desempenhada pelo atalho “Ctrl + Shift + clique em um botão da barra de tarefas”, quando utilizado no sistema operacional Windows 11?

- (A) Exibir o menu da janela do aplicativo.
- (B) Alternar as janelas do grupo.
- (C) Adicionar uma área de trabalho virtual.
- (D) Abrir um aplicativo como um administrador.
- (E) Selecionar a caixa de pesquisa.

POLÍTICAS E LEGISLAÇÃO PÚBLICAS**Questão 21**

Segundo o Art. 49 da Constituição Federal de 1988, é da competência exclusiva do Congresso Nacional:

- (A) vetar, em terras indígenas, a exploração e o aproveitamento de recursos hídricos e a pesquisa e lavra de riquezas minerais;
- (B) julgar semestralmente as contas prestadas pelo Presidente da República e apreciar os relatórios sobre a execução dos planos de governo;
- (C) aprovar, previamente, a alienação ou concessão de terras públicas com área inferior a dois mil e quinhentos hectares;
- (D) autorizar o Presidente e o Vice-Presidente da República a se ausentarem do País, quando a ausência exceder a quinze dias;
- (E) escolher um terço dos membros do Tribunal de Contas da União.

Questão 22

“Remanejamento é a mudança temporária, não superior a _____ dias, ou definitiva de função ou local de trabalho, que visa minimizar a repercussão das condições ambientais desfavoráveis à saúde do servidor no exercício do cargo.”

Segundo o Art. 25 da Lei Complementar nº 266 de 2008, a lacuna acima é corretamente preenchida por:

- (A) 30;
- (B) 60;
- (C) 90;
- (D) 120;
- (E) 180.

Questão 23

Conforme prevê a Lei nº 12.527 de 2011, o acesso à informação compreende, entre outros, os direitos de obter:

- I. informação primária, íntegra, autêntica e desatualizada;
- II. informação sobre atividades exercidas pelos órgãos e entidades, inclusive as relativas à sua política, organização e serviços;
- III. informação produzida ou custodiada por pessoa física ou entidade privada decorrente de qualquer vínculo com seus órgãos ou entidades, mesmo que esse vínculo já tenha cessado;
- IV. orientação sobre os procedimentos para a consecução de acesso, bem como sobre o local onde poderá ser encontrada ou obtida a informação almejada.

Estão corretas as afirmativas:

- (A) I e IV, apenas;
- (B) II, III e IV, apenas;
- (C) III, apenas;
- (D) IV, apenas;
- (E) II e IV, apenas.

Questão 24

De acordo com a Lei nº 12.527 de 2011, quando não for autorizado acesso integral à informação por ser ela parcialmente sigilosa, é assegurado o acesso à parte não sigilosa por meio de _____, extrato ou cópia com _____ da parte sob sigilo.

As lacunas acima são, correta e respectivamente, preenchidas por:

- (A) relatório; ocultação;
- (B) ofício; divulgação;
- (C) certidão; ocultação;
- (D) plano; divulgação;
- (E) projeto; ocultação.

Questão 25

De acordo com o Art. 5 da Constituição Federal de 1988, é correto afirmar que:

- (A) são violáveis a intimidade, a vida privada, a honra e a imagem das pessoas;
- (B) a criação de associações e, na forma da lei, a de cooperativas independem de autorização, sendo vedada a interferência estatal em seu funcionamento;
- (C) é plena a liberdade de associação para fins lícitos, permitida a de caráter paramilitar;
- (D) a pequena propriedade rural, assim definida em lei, desde que trabalhada pela família, será objeto de penhora para pagamento de débitos decorrentes de sua atividade produtiva, dispondo a lei sobre os meios de financiar o seu desenvolvimento;
- (E) é livre a manifestação do pensamento, sendo permitido o anonimato.

Questão 26

Conforme prevê a Constituição Federal de 1988, cada Estado e o Distrito Federal elegerão três Senadores, com mandato de:

- (A) dois anos;
- (B) quatro anos;
- (C) cinco anos;
- (D) seis anos;
- (E) oito anos.

Questão 27

Nos termos da Constituição Federal de 1988, o alistamento eleitoral e o voto são facultativos para:

- I. os analfabetos.
- II. os maiores de sessenta anos.
- III. os maiores de dezesseis e menores de dezoito anos.

Estão corretos os itens:

- (A) I, apenas;
- (B) I e III, apenas;
- (C) II, apenas;
- (D) III, apenas;
- (E) I e II, apenas.

Questão 28

Com base no Art. 37 da Constituição Federal de 1988, assinale a alternativa que contém um princípio da Administração Pública.

- (A) Dinamicidade;
- (B) Organização;
- (C) Acessibilidade;
- (D) Publicidade;
- (E) Eficácia.

Questão 29

O Art. 18 da Lei Complementar nº 266 de 2008, estabelece que o efetivo cumprimento das atribuições inerentes ao cargo ou função de confiança é:

- (A) exercício;
- (B) posse;
- (C) circulação;
- (D) desempenho;
- (E) exoneração.

Questão 30

Com base na Lei Complementar nº 266 de 2008, relacione os termos numerados de 1 a 4 com suas definições.

- (1) Readaptação
- (2) Reintegração
- (3) Recondução
- (4) Remoção

() É a reinvestidura do servidor estável no cargo anteriormente ocupado ou no resultante de sua transformação, quando invalidada sua demissão por decisão judicial ou administrativa.

() Consiste na mudança de cargo decorrente da inaptdão definitiva do servidor para o cargo originário, visando o aproveitamento de sua capacidade laborativa residual.

() É o retorno do servidor estável ao cargo anteriormente ocupado e decorrerá de: inabilitação em estágio probatório relativo a outro cargo; reintegração do anterior ocupante.

() É o deslocamento do servidor do quadro permanente, a pedido ou de ofício, no âmbito do mesmo quadro.

A sequência correta, de cima para baixo, é:

- (A) 2 - 1 - 3 - 4
- (B) 2 - 3 - 4 - 1
- (C) 3 - 1 - 2 - 4
- (D) 3 - 2 - 4 - 1
- (E) 4 - 2 - 1 - 3

CONHECIMENTOS ESPECÍFICOS**Questão 31**

O crescimento rápido e desordenado levou às cidades graves problemas de infraestrutura urbana, saneamento, habitação, transporte, etc. A manutenção da população no campo deveria ser uma estratégia do país para evitar o colapso das cidades, principalmente também quando levamos em conta a questão da segurança alimentar e nutricional (Fonte: Brasil de Fato, 18 de fevereiro de 2024).

Nome da principal política destinada especificamente à agricultura familiar:

- (A) Minha Casa, Minha Vida;
- (B) P1MC;
- (C) PNHR;
- (D) PRONAF;
- (E) Bolsa Família.

Questão 32

De acordo com o Censo IBGE (2022), a região brasileira considerada a menos populosa é:

- (A) sul;
- (B) norte;
- (C) nordeste;
- (D) sudeste;
- (E) centro-oeste.

Questão 33

Por meio do Tratado de Petrópolis foi anexado ao território brasileiro o estado:

- (A) Acre;
- (B) Tocantins;
- (C) Pará;
- (D) Rio de Janeiro;
- (E) Mato Grosso.

Questão 34

A proposta de caráter experimental do IBGE, sugere nova categoria para classificar os espaços territoriais. Segundo o IBGE, essa categoria tem como objetivo:

- (A) reclassificar as regiões administrativas brasileiras;
- (B) reavaliar a morfologia brasileira;
- (C) contornar a dicotomia rural-urbano;
- (D) identificar novas áreas rurais;
- (E) subsidiar as ações de planejamento urbano.

Questão 35

As projeções de Mercator e Peters utilizam como base o modelo cilíndrico, entretanto, a Peters é classificada como equivalente, cujo objetivo é:

- (A) alterar as formas para manter as proporções reais dos continentes;
- (B) diminuir a proporção da área dos países sul-americanos;
- (C) alterar a proporção das áreas;
- (D) destacar o continente norte-americano no centro do mapa;
- (E) valorizar os países considerados como mundo desenvolvido, mostrando sua área real.

Questão 36

Localizada na região norte do país, considerada uma das maiores minas de minério de ferro a céu aberto do mundo, gerida pela empresa Vale S/A:

- (A) Mina de Carajás;
- (B) Mina do Urucum;
- (C) Mina Córrego do Feijão;
- (D) Mina de Barra Longa;
- (E) Mina de Araripe.

Questão 37

Num mapa de escala 1:8.600.000, a distância entre duas localidades é 3,2 cm. Dessa forma, a distância em quilômetros entre as duas localidades é:

- (A) 270 km
- (B) 26,88 km
- (C) 2.688 km
- (D) 27,50 km
- (E) 275,20 km

Questão 38

Gilberto Freyre tinha a preocupação de que o Brasil ao entrar em uma ordem global de desenvolvimento deveria respeitar e assimilar a cultura local, em forma de regionalismo, abarcando para um novo padrão de modernidade os costumes antigos da região de forma que não agredisse e não descaracterizasse a sua população (Duquevitz, 2006). Para isso, Freyre defendia como política social o/a:

- (A) regionalismo cultural;
- (B) cultura tradicional;
- (C) globalização cultural;
- (D) Rurbanização;
- (E) gentrificação.

Questão 39

O Brasil vive uma situação contraditória: o país produz energia renovável em excesso, mas ainda precisa ligar usinas termelétricas — mais caras e poluentes — para suprir a demanda em momentos de pico. (Fonte: G1, 04 de março de 2024).

Este cenário tem como consequência:

- (A) diminuição da demanda por energia renovável;
- (B) substituição da matriz energética;
- (C) valorização das termelétricas;
- (D) aumento da demanda por energia;
- (E) alto custo ao consumidor.

Questão 40

Analise as afirmativas abaixo e depois assinale a alternativa correta:

- I- Nas últimas décadas, a concepção de um rural estritamente agrícola vem passando por mudanças profundas. As transformações das realidades rurais apontam para a valorização de uma conjunção de componentes de natureza social, ambiental, econômica e cultural.

Portanto,

- II- Há em curso uma mutação da visão do rural enquanto lugar estritamente produtivo, com função unicamente econômica para outra, segundo a qual o rural é considerado como um território com múltiplos papéis para a sociedade global.

- (A) apenas a afirmativa I está correta;
- (B) ambas as afirmativas estão incorretas;
- (C) as afirmativas I e II estão corretas, e tratam do mesmo assunto;
- (D) apenas a afirmativa II está correta;
- (E) ambas as afirmativas estão corretas, mas tratam de assuntos distintos.

Questão 41

A pesquisa Regiões de Influência das Cidades – Regic (IBGE), realizada a cada dez anos visa identificar e analisar a rede urbana brasileira, estabelecendo a hierarquia dos centros urbanos e as regiões de influência das cidades. Neste sentido, em 2020, a pesquisa identificou as três cidades que se tornaram metrópoles brasileiras, são elas:

- (A) Campinas, Florianópolis e Vitória;
- (B) Florianópolis, Belo Horizonte e Vitória;
- (C) Curitiba, Campinas e Fortaleza;
- (D) Salvador, Campinas e Belo Horizonte;
- (E) Recife, Rio de Janeiro e Florianópolis.

Questão 42

Defende a teoria da completa urbanização, ou seja, a sociedade urbana como resultado da urbanização completa, de modo que o processo de industrialização domina e absorve a produção agrícola e, assim, por meio da Revolução Urbana, a urbanização prevaleceria permanentemente sobre o rural:

- (A) Henri Lefebvre;
- (B) Carl Sauer;
- (C) Miguel Sposito;
- (D) Manuel Castells;
- (E) Milton Santos.

Questão 43

A classificação do relevo brasileiro retratada no mapa abaixo foi proposta por:



- (A) Aroldo de Azevedo;
- (B) Jurandyr Ross;
- (C) Maria Laura Silveira;
- (D) Aziz Ab'Sáber;
- (E) Maria Elena Simielli.

Questão 44

Os primeiros resultados do Censo 2022 também apontaram que _____, _____ e _____ seguem sendo os estados mais populosos do país.

As lacunas acima são corretamente preenchidas por:

- (A) São Paulo; Rio de Janeiro; Fortaleza;
- (B) São Paulo; Rio de Janeiro; Manaus;
- (C) São Paulo; Porto Alegre; Minas Gerais;
- (D) Brasília; Rio de Janeiro; Minas Gerais;
- (E) São Paulo; Brasília; Minas Gerais.

Questão 45

De acordo com os dados da Agência Nacional de Energia Elétrica (2024), as três maiores fontes renováveis que compõem a matriz de energia elétrica brasileira são:

- (A) hídrica, eólica e biomassa;
- (B) solar, gás natural e bioma;
- (C) hídrica, carvão mineral e bioma;
- (D) solar, eólica e gás natural;
- (E) eólica, carvão mineral e biomassa.

Questão 46

País que exerce atualmente a presidência do G20:

- (A) Brasil;
- (B) França;
- (C) China;
- (D) Canadá;
- (E) Estados Unidos.

Questão 47

O estudo de Graziano da Silva (1999) evidenciou transformações no meio rural brasileiro que despertaram para novas formas de analisá-lo, em especial aqueles próximos às regiões industrializadas e intensamente urbanizadas. O “novo rural” identificado por esse autor é aquele que não pode mais ser entendido como a expressão de atividades agropecuárias e agroindustriais, pois abriga cada vez mais atividades não agrícolas e famílias menos dedicadas à agropecuária (CHIODI, MARQUES, MURADIAN, 2018).

Para o autor, este fenômeno pode ser identificado como:

- (A) ruralização;
- (B) urbanização do rural;
- (C) globalização;
- (D) conurbação;
- (E) territorialização.

Questão 48

Haeun mora na Coreia do Sul e participa de um grupo de dorameiras residentes no Brasil, que se reúnem virtualmente todo domingo para compartilharem suas impressões sobre k-dramas. Sabendo que a Coreia do Sul está 12 fusos à leste do Brasil, quantas horas será no Brasil quando o encontro virtual for às 23 horas?

- (A) 23 horas do próximo dia.
- (B) 11 horas.
- (C) 12 horas.
- (D) 10 horas do dia anterior.
- (E) 09 horas.

Questão 49

A Bacia hidrográfica Platina ou do Prata é formada pelos rios Paraná, Paraguai e Uruguai e, se constitui um dos principais conjuntos fluviais do mundo e o segundo maior da América do Sul, superado apenas pela Bacia Amazônica. O rio Paraguai nasce no estado:

- (A) Paraná;
- (B) Goiás;
- (C) Mato Grosso;
- (D) São Paulo;
- (E) Mato Grosso do Sul.

Questão 50


Na década de 1960, quando o governo brasileiro ainda estudava a melhor divisão territorial para o país, o geógrafo Pedro Geiger elaborou uma proposta de regionalização baseada nos aspectos:

- (A) culturais;
- (B) geoeconômicos;
- (C) territoriais;
- (D) espaciais;
- (E) ecológicos.

PROVA DISCURSIVA

Elabore um texto dissertativo, de 20 a 30 linhas, com base nos seus conhecimentos, acerca do tema abaixo:

Tema: Urbanização: processo de urbanização, dinâmica e tendências no Brasil.



Fonte: <https://geolibertaria2.blogspot.com/2015/02/urbanizacao-no-brasil-questoes-de.html>

“A urbanização brasileira aconteceu de maneira rápida e desordenada, ocasionando alguns problemas, como a macrocefalia urbana e o agravamento das desigualdades socioespaciais. A urbanização brasileira se intensificou a partir da segunda metade do século XX e é marcada pelo crescimento rápido e desordenado das cidades. "O processo de urbanização que aconteceu no Brasil se assemelha àquele de outros países emergentes, dando-se de forma acelerada e desordenada, sem planejamento. Ao mesmo tempo que importantes cidades e grandes metrópoles se desenvolveram, a urbanização brasileira, da forma como foi realizada, resultou também na macrocefalia urbana e no agravamento das desigualdades socioeconômicas e espaciais nas cidades."

Fonte: <https://brasilecola.uol.com.br/brasil/urbanizacao-no-brasil.htm>

FOLHA DE RASCUNHO

1

2

3

4

5

6

7

8

9

10

11

12

13

14

15

16

17

18

19

20

21

22

23

24

25

26

27

28

29

30